

Trabajemos en casa Historia 2° básico

Nombre del estudiante: _____
Fecha: _____

Miércoles 22 de Julio de 2020

Objetivo: Reconocer por qué hay más vegetación en los paisajes del sur de Chile.

Lección 2 ¿Qué paisajes existen en Chile?


PDF exclusivo
2018-2020
Ministerio de Educación

¿Por qué hay más vegetación en los paisajes de la Zona Sur?


La lluvia y la humedad son características de esta zona. Mientras más avanzas hacia el sur, las temperaturas son más bajas y aumentan las lluvias.

Recurso 1 Los paisajes de la Zona Sur.


Río Valdivia, Región de Los Ríos.



Existen grandes ríos y lagos en toda la zona. La costa es ancha, pero se va haciendo más angosta hacia el sur.



Ciudad de Temuco, Región de la Araucanía.



Esta ciudad es de las más pobladas de la zona y tiene una gran importancia para el comercio, la economía y la cultura de la región.

Fuente: archivo editorial

- 1 Plantea tres razones por las que vivirías en esta zona. Explicalas.
- 2 Explica con dibujos qué son las actividades agrícolas, forestales y ganaderas. ¿Por qué crees que se desarrollan en esta zona?

36

PDF exclusivo
DINAMIA
Ministerio de Educación
1



Araucarias en Conguillío, Región de la Araucanía.

La cordillera de los Andes disminuye su altura, sus cumbres son **volcanes**. La gran cantidad de lluvia permite una **abundante vegetación**.

Lago Llanquihue, Frutillar.

Ganadería en Osorno, Región de Los Lagos.

Actividad forestal en Temuco.

La **actividad forestal**, la **agricultura** y la **ganadería** son actividades importantes para la zona.

37



Cualquier duda o consulta que tengas durante el desarrollo de las actividades escribe: paulysouly31@gmail.com
Lunes a viernes de 08:00 a 14:00 horas